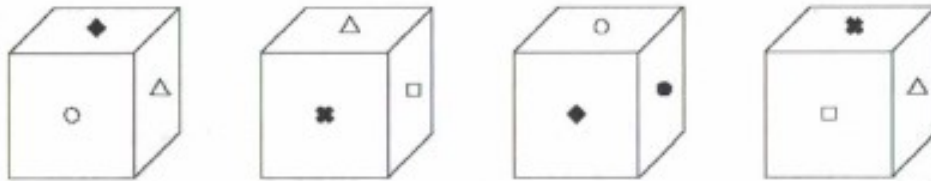


Aufgabe 450424 – Würfelnetze

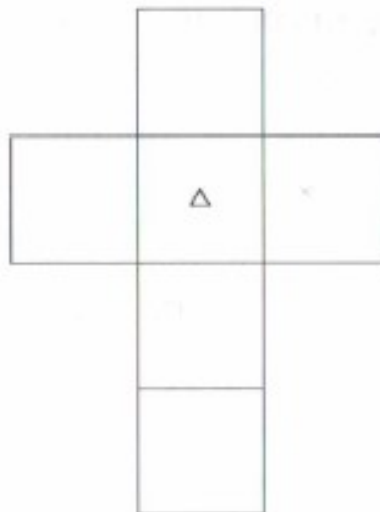
Hier ist derselbe Würfel viermal abgebildet.



a) Welches Zeichen liegt jeweils unten?

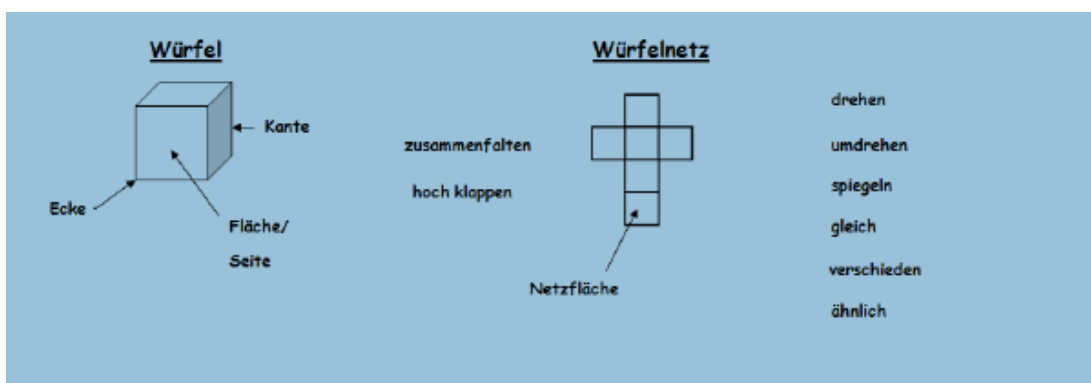


b) Vervollständige die Zeichen im Würfelnetz.



Quelle: Quelle: Die Mathematik-Olympiade in der Grundschule 2005-2013 S. 12

Lernziele:



Bastelanleitung Würfel

